

35 (70%)

Всероссийская олимпиада по географии  
2024/25 учебный год  
Школьный этап

Задания для участников 5-6 класса

Инструкция по выполнению работы

Время, отведенное на выполнение заданий обоих туров – 90 минут  
Максимальное количество баллов за оба тура – 50.  
Внимательно прочитайте каждое задание.  
Ответ записывайте разборчиво.

Примечание. Не разрешается пользоваться школьными атласами и другими источниками информации.

Шифр Гео-508

ЗАДАНИЯ ТЕОРЕТИЧЕСКОГО ТУРА  
Общее количество баллов – 35 баллов

Задание	1	2	3	4	5	6	Итого
Максимальное кол-во баллов	2	3	3	3	22	2	35
Оценка участника	0	3	2	2	16	1	24

**Задание 1.**

Существуют ли на Земле точки, для определения, местонахождения которых достаточно определить только широту? Если да, то назовите их.

Ответ: \_\_\_\_\_

Критерии оценивания: за правильный ответ – 2 балла.

**Задание 2.**

Исправьте географические ошибки

- 0,5 1. Город Мадагаскар Остров Мадагаскар
- 0,5 2. Ладожское море Ладожское озеро
- 0,5 3. Озеро Амазонка Река Амазонка
- 4. Аравийский залив Аравийский полуостров 0,5
- 5. Остров Гималаи Горы Гималаи 0,5
- 6. Красное озеро Красное море 0,5

Критерии оценивания: за каждый верный ответ - 0,5 балла. Всего – 3 балла.

**Задание 3.**

К какому понятию принадлежат следующие ассоциации:

- Волна, землетрясение, опасность, скорость, бедствие Цунами 1
- Скалы, пороги, зрелище, грохот, вода Водопад 1
- Океан, лёд, гора, опасность Лавина

Критерии оценивания: за каждый верный ответ - 1 балл. Всего – 3 балла.

**Задание 4.**

Один невнимательный ученик на плане местности обозначил зеленым цветом следующие объекты:

а) лес; б) луг; в) пристань на реке; г) заросли кустарника; д) водяную мельницу.

Какие объекты надо обозначить другим цветом? Каким?

б) - светло-зеленым

г) - желтым, д) - серым

Критерии оценивания: за каждый верный ответ - 1 балл. Всего - 3 балла.

**Задание 4.** Прочитайте текст о географических рекордах материков нашей планеты и замените пропуски, обозначенные числами, на слова (словосочетания) или числа. Словами (словосочетаниями) в ответах могут быть географические названия, термины и понятия. Числовые ответы запишите цифрами, округлив до целого числа.

На нашей планете шесть материков, и каждый из них обладает своими географическими особенностями и рекордами.


На самом большом по площади континенте Земли в горах (1) находится наивысшая точка планеты с высотой (2) метров над уровнем моря и самая низкая отметка суши – уровень (3) моря, которое на самом деле является озером. На этом же континенте располагаются самое большое по площади озеро мира – (4) море и самое глубокое в мире озеро – (5). Эти озёра находятся в самой большой по площади стране мира – (6). Самая длинная в мире река – (7), протекает по территории четвёртого по площади континента планеты. Долгое время самой длинной рекой считался (8), протекающий по территории самого жаркого материка Земли. Но самая высокая температура воздуха на планете зарегистрирована в (9), которая расположена на третьем по площади материке планеты. Самая низкая температура воздуха отмечена на материке (10). От ближайшего к нему континента он отделён самым широким проливом в мире под названием пролив (11).

№	Ответы	№	Ответы
1	Гималаи 2	7	Амазонка 2
2	8848 метров 2	8	Нил 2
3		9	
4	Каспийское море 2	10	Арташтида 2
5	Байкал 2	11	
6	Россия 2		

Критерии оценивания: за каждый верный ответ - 2 балла. Всего - 22 балла.

**Задание 6.** Максимальная оценка 2 балла (за каждый верный ответ 1 балл).

Отгадайте географические ребусы?



Ответ: 1. Эватор, 1

Критерии оценивания: за каждый верный ответ - 1 балл. Всего - 2 балла.

**ЗАДАНИЯ ТЕСТОВОГО ТУРА**  
Общее количество баллов – 15 баллов

Задание	1	2	3	4	5	6	7	8	Итого
Максимальное кол-во баллов	0,5	0,5	0,5	0,5	0,5	0,5	0,5	0,5	
Оценка участника	0,5	0,5	0,5	0	0,5	0,5	0,5	0,5	
Задание	9	10	11	12	13	14	15	16	Итого
Максимальное кол-во баллов	0,5	0,5	0,5	0,5	1	1	2	5	15
Оценка участника	0	0,5	0,5	0,5	1	1	0	4	11

**1. Что изучают естественные науки?**

- 1) образ жизни людей 2) историю цивилизаций  
3) экономику страны 4) природу окружающего мира  
Критерии оценивания: за правильный ответ - 0,5 балла.

**2. Воображаемая прямая, проходящая через центр Земли, вокруг которой происходит суточное вращение Земли:**

- 1) полярный круг; 2) земная ось; 3) экватор; 4) северный полюс.  
Критерии оценивания: за правильный ответ - 0,5 балла.

**3. Днём и ночью, в любую погоду верным путеводителем является компас. Где появился первый компас?**

- 1) в Японии; 2) в Индии; 3) в Испании; 4) в Китае.  
Критерии оценивания: за правильный ответ - 0,5 балла.

**4. Назовите сторону горизонта, противоположную северо-востоку:**

- 1) юго-восток; 2) юго-запад; 3) северо-запад; 4) север  
Критерии оценивания: за правильный ответ - 0,5 балла.

**5. Какая природная зона описана в тексте?**

«Лето тёплое, но зима суровая, преобладают хвойные растения, так как они менее требовательны к теплу. Животный мир разнообразен».

- 1) тундра 2) тайга 3) пустыня 4) арктическая пустыня  
Критерии оценивания: за правильный ответ - 0,5 балла.

**6. Какое озеро России включено в список объектов Всемирного природного наследия?**

- 1) Ладожское 2) Байкал 3) Каспийское 4) Онежское  
Критерии оценивания: за правильный ответ - 0,5 балла.

**7. Ближайшими к Земле планетами Солнечной системы являются:**

- 1) Сатурн и Юпитер; 2) Марс и Венера;  
3) Юпитер и Марс; 4) Венера и Меркурий  
Критерии оценивания: за правильный ответ - 0,5 балла.

**8. Чем является Солнце в Солнечной системе?**

- 1) звездой 2) планетой 3) крупным астероидом 4) кометой  
Критерии оценивания: за правильный ответ - 0,5 балла.

**9. Какое утверждение неверно?**

- 1) Лес — защитник почвы 2) Лесов так много, что вырубить их все невозможно  
3) Лес очищает воздух 4) Лес защищает почву от разрушения.  
Критерии оценивания: за правильный ответ - 0,5 балла.

**10. Что является основным занятием людей в тундре?**

- 1) растениеводство; 2) рыболовство; 3) оленеводство  
Критерии оценивания: за правильный ответ - 0,5 балла.

**11. На каком материке находится наша страна:**

1) Европа 2) Азия 3) Северная Америка 4) Евразия



Критерии оценивания: за правильный ответ - 0,5 балла.

**12. Первым кругосветное путешествие совершила экспедиция:**

1) Х. Колумба; 2) Ф. Магеллана; 3) Васко да Гамы; 4) Афанасий Никитин

Критерии оценивания: за правильный ответ - 0,5 балла.

**13. Этот простой метеорологический прибор называется (1), с его помощью можно измерить (2).**



- А) 1 – флюгер, 2 – угол;  
 Б) 1 – стрелка, 2 – направление;  
 В) 1 – флюгер, 2 – направление, скорость;  
 Г) 1 – анемометр, 2 – силу.

Критерии оценивания: за правильный ответ – 1 балл.

**14. В какой природной зоне могли быть сделаны представленные фотографии.**

Запишите название природной зоны.



Ответ: тундра

Критерии оценивания: за правильный ответ – 1 балл.

**15. Установите соответствие между названиями природных зон и географическими особенностями, которые характерны для каждой из них.**

**ГЕОГРАФИЧЕСКИЕ ОСОБЕННОСТИ**

**ПРИРОДНЫЕ ЗОНЫ**

- А) расположена в умеренном поясе Северного полушария;  
 Б) растительность скудная;  
 В) занимает обширные районы крайнего севера России;  
 Г) растут сосны, ели, пихта;  
 Д) большое количество мхов и лишайников;  
 Е) местообитание лисы, зайца, куропатки, белки и др.

- 1) тундра  
 2) тайга



Запишите в таблицу выбранные цифры под соответствующими буквами.

А	Б	В	Г	Д	Е
1	1	1	2	1	2

Критерии оценивания: за правильный ответ – 2 балла.

**16. В различных уголках мира обитают нелетающие птицы. Установите соответствия: «изображение нелетающей птицы – её название – ареал обитания».**

- 1) африканский страус 2) нанду 3) киви 4) казуары 5) императорский пингвин



I) Антарктида

II) Африка

III) Новая Зеландия

IV) Австралия

V) Южная Америка

Ответ: 1-B-II, 2-A-V, 3-B-III, 4-G-IV, 5-A-I

Критерии оценивания: за правильный ответ – 5 баллов.